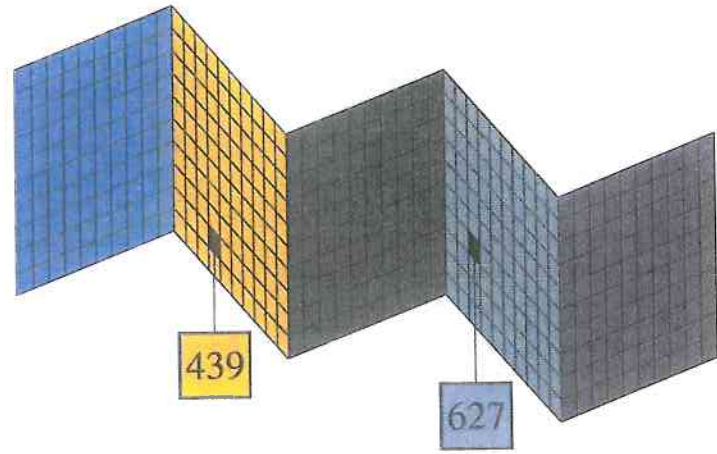
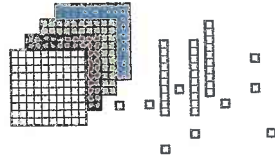
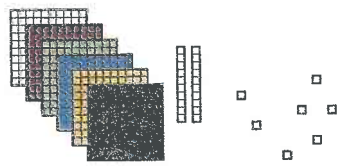


UČEBNICE - 3. ROČNÍK

Porovnej čísla.

627 730, 825 265, 365 676, 389 634, 784
 425, 509 659, 599 375, 75 956, 779 127, 227



Tisíce	Stovky	Desítky	Jednotky	Tisíce	Stovky	Desítky	Jednotky
	4	3	9		6	2	7

627 je větší, má víc stovek než 439, protože $6 > 4$.



1. Jsou délky úseček
 v milimetrech uvedeny
 na obrázcích správně?

1. Děti tvořily slovní úlohy k příkladu $8 \cdot 3 + 43$. Splnily všechny děti správně úkol? Oprav chyby.
 Některou slovní úlohu vypočítej.

Jana
 V prodejně mají 8 beden kousků, 8 beden jablek a 8 beden švestek přivezli 43 beden pomerančů. Kolik mají v prodejně ovoce?

Eva
 Zola koupila 8 kuliček po 3 korunách. Maminka koupila 43 kousků. Kolik převa koupili?

Lucie
 Tomáš, Alík a Jana šli vyhledávat peníze na dobročinnou akci. Každý z nich vybral 8 Kč. Potom ještě dali společně 43 Kč. Kolik Kč vybrali dobrodělci?

