

HODNÍ ČÁST JEDNÉ STRÁNKY PRACOVNÍ UČEBNICE  
(ČÍRKOVANĚ JSEM VYZNAČILA OKRAJ LISTU)



$$8 \cdot 8 = \_ + \_ + \_ + \_ + \_ + \_ + \_ + \_ = \_$$



OPAKOVÁNÍ - PRACOVNÍ UČEBNICE  
PRO 2. ROČNÍK - DSM ŘÁD PAVOUKŮ

### Násobení 8

1 Spočítej pavoukům nohy.



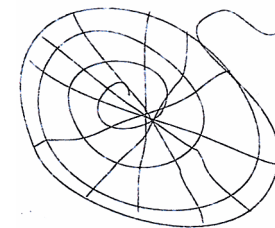
$$8 \cdot 4 = 8 + 8 + 8 + 8 = \_$$



$$\_ \cdot 8 = 8 + \_ + \_ + \_ + \_ + \_ + \_ + \_ = \_$$



$$\_ \cdot 8 = \_ + \_ = \_$$



2 Vyřeš.

$$3 \cdot 8 = \_$$

$$5 \cdot 8 = \_$$

$$7 \cdot 8 = \_$$

$$1 \cdot 8 = \_$$

$$8 \cdot 8 = \_$$

$$2 \cdot 8 = \_$$

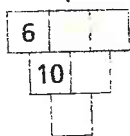
$$4 \cdot 8 = \_$$

$$6 \cdot 8 = \_$$

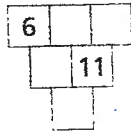
(H - 2.r.)

### Zákonitosti sčítací tabulky

1 Dopln.



$$\square + \square = 7$$



$$\square + \square = 20$$

2 Dopln, aby byl součet tří  
sousedních čísel 3 a součet  
všech pěti čísel 4.



3 Dopln sčítací tabulku.

	13	16	12
17			
14			
18			

Součet čísel ve polích je  $\_$ .

Součet čísel v polích je  $\_$ .

Součet čísel v polích je  $\_$ .


Zvol čísla v horním řádku a levém sloupci. Dopln tabulku. Najdi součet čísel ve žlutých (zelených, modrých) polích.

