

1

Doplň.

$14 + 14 = \square$

$15 + \square = 30$

$18 - 9 = \square$

$20 - \square = 10$

$\square + 12 = 24$

$22 - \square = 11$

$\square - 15 = 15$

$13 + \square = 26$

$30 - 6 = \square$

$30 - \square = 23$

$\square - 2 = 22$

$\square + 6 = 21$

2

Doplň, aby byl součet tří sousedních čísel 9.

9

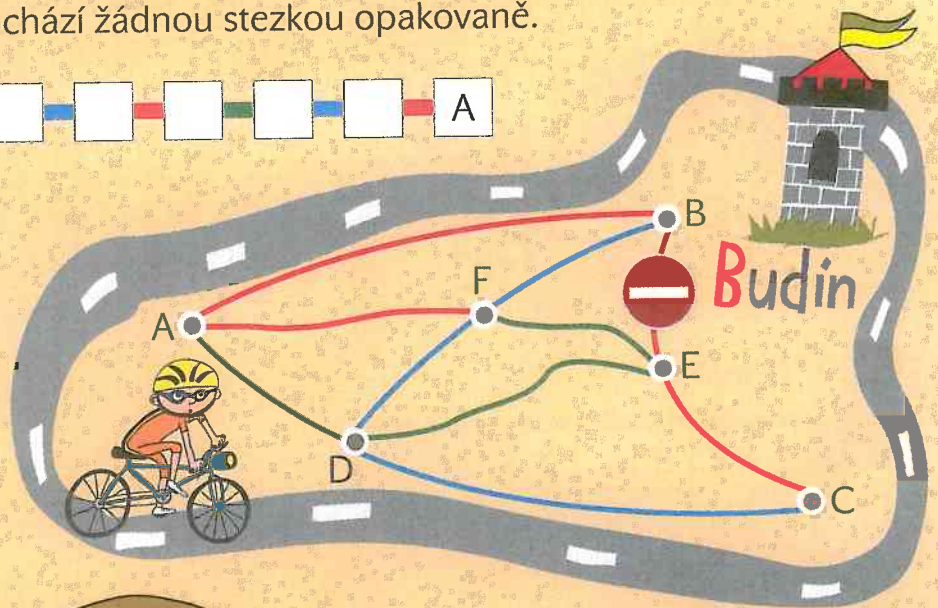
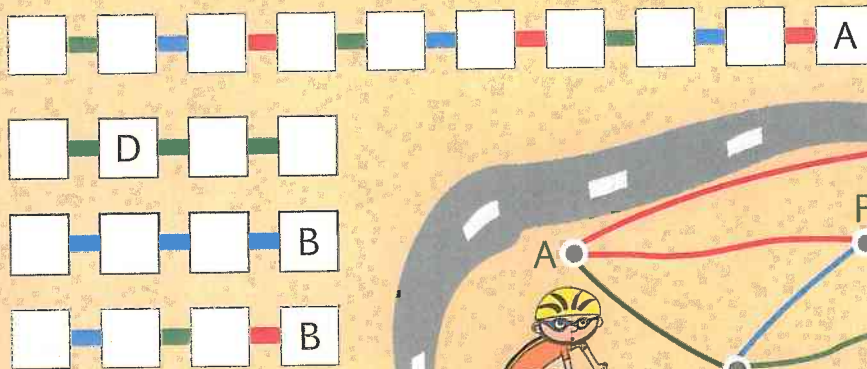
5		2
0	6	

4			0
2			6

		9		
				4


3

Najdi trasu, která neprochází žádnou stezkou opakovaně.



4

Kam patří hruška?



Hra



Rozděl peníze spravedlivě.
(H - 2.v)